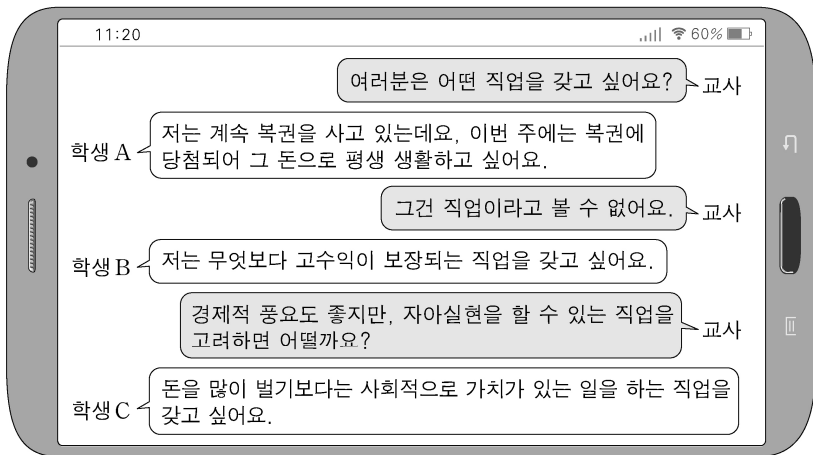


제 4 교시

직업탐구 영역(성공적인 직업생활)

성명		수험 번호																제 [] 선택
----	--	-------	--	--	--	--	--	--	--	--	--	--	--	--	--	--	--	-------------

1. 다음은 직업 선택에 대한 교사와 학생들의 대화이다. 학생 A~C에 대한 설명으로 적절한 것만을 <보기>에서 있는 대로 고른 것은?



<보 기>

ㄱ. 학생 A는 노동의 대가로 수입이 발생해야 한다는 직업의 요건을 알지 못하고 있다.
 ㄴ. 학생 B는 직업의 가치 중 ‘금전적 보상’을 중시하고 있다.
 ㄷ. 학생 C는 직업의 특징 중 ‘사회적 역할 분담’을 중시하고 있다.

- ① ㄱ ② ㄴ ③ ㄱ, ㄷ ④ ㄴ, ㄷ ⑤ ㄱ, ㄴ, ㄷ

2. 다음 ○○물산 사례를 통해 알 수 있는 직업 윤리의 원칙으로 가장 적절한 것은?

○○물산은 동종업계에서 최초로 윤리 경영 시스템을 도입했다. 업무와 관련된 모든 것을 숨김없이 수행하고 본분과 약속을 지키기 위해 필요한 규범을 준수하는 ‘정도(正道) 경영’을 새로운 경영 철학으로 채택함으로써 윤리 경영을 실천하고자 하였다. 이에 모든 임직원은 입사와 동시에 윤리 규범 실천 지침을 준수하겠다는 서약서를 작성하였다.

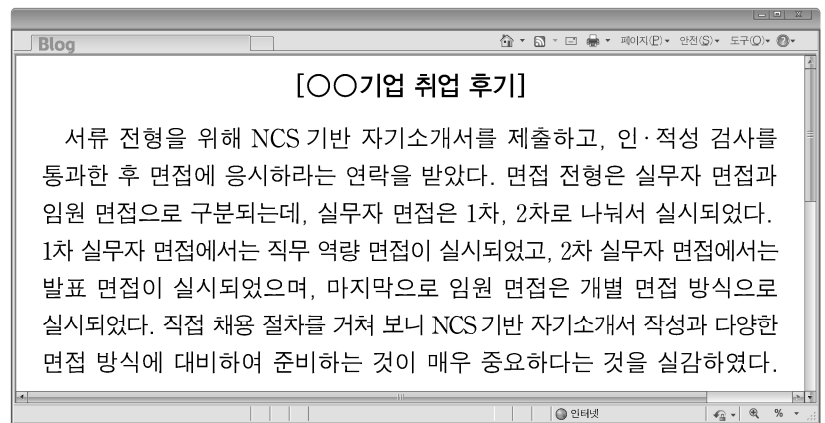
- ① 객관성 ② 전문성 ③ 고객 중심
 ④ 정직과 신용 ⑤ 근면과 성실

3. 다음은 직업 사회의 변화를 다룬 내용이다. (가)에 들어갈 용어로 가장 적절한 것은?

최근 많은 젊은이들이 해외에서 새로운 취업 기회를 찾고 있다. 한곳에서 평생 정착해 사는 정착민의 삶이 아닌 끊임없이 새로운 것을 찾아 돌아다니며 자신의 가치를 찾는 유목민 사회의 방식을 이들이 받아들인 것으로 보인다. 네트워크 사회의 도래, 새로운 형태의 산업 출현 그리고 작업 환경의 변화 등에 의해 점차 국경을 초월하여 자신의 의지에 따라 직업을 개척하는 사람들을 뜻하는 (가)의 흐름이 중요한 사회 현상으로 받아들여지고 있다.

- ① 잡노마드 ② 사물인터넷 ③ 안티에이징
 ④ 웰빙라이프 ⑤ 유비쿼터스

4. 다음은 [○○기업 취업 후기]의 일부이다. 이에 대한 설명으로 적절한 것만을 <보기>에서 있는 대로 고른 것은? [3점]

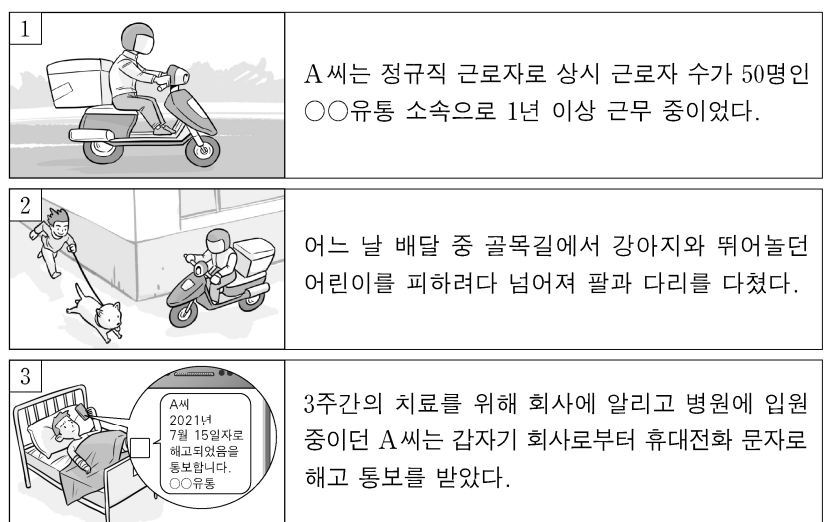


<보 기>

ㄱ. 제출한 자기소개서는 해당 직무에서 요구되는 직업기초능력을 중심으로 지원 동기, 핵심 가치 등에 대하여 작성한 문서이다.
 ㄴ. 1차 실무자 면접은 해당 직무에 대한 관심도와 직무 수행 능력을 알아보기 위한 방식으로 실시되었다.
 ㄷ. 2차 실무자 면접은 여러 장소를 이동하며 다양한 상황에서 면접관의 즉흥적인 질문에 바로 대답하는 방식으로 실시되었다.
 ㄹ. 임원 면접은 여러 명의 면접관이 여러 명의 지원자를 한꺼번에 비교하여 평가하는 방식으로 실시되었다.

- ① ㄱ, ㄴ ② ㄱ, ㄷ ③ ㄴ, ㄹ
 ④ ㄱ, ㄷ, ㄹ ⑤ ㄴ, ㄷ, ㄹ

5. 다음 산업 재해 사례를 통해 알 수 있는 내용으로 옳은 것만을 <보기>에서 있는 대로 고른 것은? [3점]



<보 기>

ㄱ. 사례의 해고는 부당 해고에 해당한다.
 ㄴ. 사고의 형태는 ‘물체에 맞음’에 해당한다.
 ㄷ. A 씨는 복직을 위하여 법정기한 내 중소벤처기업부에 구제 신청을 할 수 있다.

- ① ㄱ ② ㄴ ③ ㄱ, ㄷ ④ ㄴ, ㄷ ⑤ ㄱ, ㄴ, ㄷ

2 (성공적인 직업생활) 직업탐구 영역

6. 다음 A, B 씨의 근무일지에서 알 수 있는 내용으로 적절한 것만을 <보기>에서 있는 대로 고른 것은? (단, 근로기준법상 미성년자는 고려하지 않는다.)

[A씨 근무일지]			
주차	근로시간	장소	업무내용
8월 1주차	월요일~금요일 09:00~18:00 (휴게시간 12:00~13:00)	자택	• 발주목록 작성 및 확인 • 납품목록 검토



[B씨 근무일지]			
주차	근로시간	장소	업무내용
8월 1주차	월요일 22:00~화요일 07:00 (휴게시간 02:00~03:00)	○○병원	• 환자 간호 • 수술 부위 확인 및 소독
	수요일 휴무		—
	목요일 07:00~16:00 (휴게시간 11:00~12:00)		• 기본적인 병동 업무 • 환자 상태 확인
	금요일 07:00~16:00 (휴게시간 11:00~12:00)		• 기본적인 병동 업무 • 병동 간호사 회의



—<보 기>—

- ㄱ. A 씨는 법정 휴게시간을 보장받고 있다.
 ㄴ. B 씨의 1일 근로시간은 법정 근로시간을 준수하고 있다.
 ㄷ. A 씨는 재택 근무, B 씨는 교대 근무를 하고 있다.

- ① ㄱ ② ㄴ ③ ㄱ, ㄷ ④ ㄴ, ㄷ ⑤ ㄱ, ㄴ, ㄷ

7. 다음 산업 재해 [사례 1], [사례 2]를 통해 알 수 있는 내용으로 옳지 않은 것은? [3점]

[사례 1]	
사고 개요	근로자 A 씨는 출고를 위해 쌓아 둔 제품을 옮기던 중 부주의로 미끄러져 넘어짐. 
사고 결과 및 조치	◆사고결과 • 5일의 요양을 요하는 상처를 입어 산재보험 의료기관에서 해당 기간에 치료를 받음. • 치료 후 완치되어 정상적인 근무를 시작함.  ◆조치 • 안전보건교육 실시 및 안전보건표지 설치

[사례 2]	
사고 개요	근로자 B 씨는 공장 내 지게차 포크에 팔레트를 끼운 후 그 위에 올라선 상태에서 작업하던 중 바닥으로 떨어짐. 
사고 결과 및 조치	◆사고결과 • 척추뼈가 골절되어 산재보험 의료기관에서 24주간 입원 치료를 받음. • 퇴원 후에도 후유증으로 인해 장해 7급 판정을 받음.  ◆조치 • 안전보건교육 실시 및 안전보건표지 설치

- ① [사례 1]의 A 씨는 요양 급여를 지급받을 수 있다.
 ② [사례 1]의 A 씨는 상병 보상 연금을 지급받을 수 있다.
 ③ [사례 2]의 B 씨는 장해 급여를 지급받을 수 있다.
 ④ [사례 2]의 B 씨는 입원 기간에 대해 휴업 급여를 지급받을 수 있다.
 ⑤ [사례 1]의 설치 표지는 '경고 표지', [사례 2]의 설치 표지는 '금지 표지'이다.

8. 다음은 자기소개서 사례 모음집의 일부이다. 이를 통해 알 수 있는 학생 A, B의 직업기초능력에 대한 설명으로 적절한 것만을 <보기>에서 있는 대로 고른 것은? [3점]

《학생 A 자기소개서》	
본인이 갖춘 역량이 우리 회사의 성장에 어떻게 기여할 수 있는지 서술 하시오.	
아르바이트를 하면서 고객의 요구 사항을 잘 파악하기 위해 공감과 경청의 자세를 배우게 되었습니다. 이러한 역량들은 고객으로부터 신뢰를 얻고 보다 넓은 고객층을 확보하는 데 기여할 수 있을 것입니다.	

《학생 B 자기소개서》	
본인의 부족한 부분을 보완하기 위해 6개월 이상 지속적인 노력을 기울였던 경험에 대해 서술하십시오.	
태권도 국가 대표가 꿈이었던 저는 내성적인 성격을 극복하고자 태권도 학원을 다니기 시작했습니다. 처음에는 운동 신경이 둔하여 참피하고 쑥스러웠지만 계속해서 운동을 하다 보니 운동 능력이 향상되었습니다. 고등학교 2학년 때부터는 태권도 시범단으로 활동하면서 사람들 앞에 서는 두려움을 극복해 나갈 수 있었습니다.	

—<보 기>—

- ㄱ. 학생 A의 자기소개서에서 '자원 관리 능력'을 확인할 수 있다.
 ㄴ. 학생 B의 자기소개서에서 '자기 개발 능력'을 확인할 수 있다.
 ㄷ. 학생 A, B의 자기소개서에서 공통적으로 '정보 능력'을 확인할 수 있다.

- ① ㄱ ② ㄴ ③ ㄱ, ㄷ ④ ㄴ, ㄷ ⑤ ㄱ, ㄴ, ㄷ

9. 다음은 직무 수행 능력 향상을 위한 [선배 초청 특강]이다. 강사 A 씨에 대한 설명으로 적절한 것만을 <보기>에서 있는 대로 고른 것은?

[선배 초청 특강]	
주제: 직무 수행 능력 향상을 통한 성공적인 취업	강사명: A
* 담당 업무: 시각 디자인	
* 직무 수행 능력 향상을 위해 내가 걸어온 길	
- 채용 공고문에 제시된 직무 기술서 분석	
- 직업기초능력 중 업무와 관련된 문제의 특성을 파악하고, 대안을 제시·선택·적용하며, 그 결과를 평가하여 피드백하는 능력 개발	
- 시각디자인기사 취득	
- 학교 내·외에서 이루어지는 다양한 형태의 학습과 자격을 학점으로 인정받아 학위 취득	

—<보 기>—

- ㄱ. 학점 은행제를 이용하였다.
 ㄴ. 담당 업무와 관련된 국가기술자격을 취득하였다.
 ㄷ. 직업기초능력 중 '수리 능력'의 하위 능력인 '기초 연산 능력'을 향상시켰다.
 ㄹ. 회사의 목적, 조직 등에 관한 내용 및 규칙을 이해하기 쉽게 정리한 문서를 분석하였다.

- ① ㄱ, ㄴ ② ㄱ, ㄷ ③ ㄴ, ㄹ
 ④ ㄱ, ㄷ, ㄹ ⑤ ㄴ, ㄷ, ㄹ

10. 다음 사례에 나타난 A 씨의 기업가 정신과 B 씨의 창업 요소로 가장 적절한 것은?

A 씨는 어려운 환경에서 성공한 창업가로 지역 주민을 위해 사회봉사를 많이 하였다. A 씨는 “대한민국의 많은 기업과 청년층에게 희망을 주고 싶다. 기업가 정신은 공동의 목표와 사회적 이익을 위해 동료와 함께 이루는 것이다.”라고 했다. 창업을 고려 중이었던 B 씨는 A 씨의 성공 사례를 보고 자신도 창업을 통해 지역 사회에 봉사하고 싶은 생각이 들었다. 식품조리학과를 졸업한 B 씨는 아침을 잘 챙겨 먹지 못하는 사람들을 위해 아침 대용 ‘웰빙 드링크’ 개발을 준비하고 있다.

A 씨의 기업가 정신	B 씨의 창업 요소
① 진취성	창업 자본
② 위험 감수성	시장
③ 위험 감수성	창업 아이템
④ 사회적 책임성	창업 자본
⑤ 사회적 책임성	창업 아이템

11. 표는 공동 기업의 형태를 분류한 것이다. (가)~(다)에 대한 설명으로 옳은 것만을 <보기>에서 고른 것은? (단, 기업의 형태는 주식회사, 합명회사, 합자회사로만 구분한다.) [3점]

구분	기업의 형태		
	(가)	(나)	(다)
자본 조달을 위하여 주식을 발행합니까?	아니요	아니요	예
유한 책임 사원이 구성원에 있습니까?	아니요	예	예
무한 책임 사원이 구성원에 있습니까?	예	예	아니요

ㄱ. (가)는 다른 사원의 동의 없이 지분을 양도할 수 있는 특징이 있다.
 ㄴ. (나)는 유한 책임 사원과 무한 책임 사원으로 구성된다.
 ㄷ. (다)는 소수 공동 기업에 속한다.
 ㄹ. (가)는 인적 회사, (다)는 물적 회사이다.

- ① ㄱ, ㄴ ② ㄱ, ㄷ ③ ㄴ, ㄷ ④ ㄴ, ㄹ ⑤ ㄷ, ㄹ

12. 다음 사례에서 A 씨가 보험 혜택을 받기 위한 활동으로 적절한 것만을 <보기>에서 있는 대로 고른 것은? [3점]

A 씨는 중소 자동차 부품 제조업체에서 4대 사회 보험에 가입된 상태로 최근 1년 동안 180일 이상 근무 중이었다. 그러나 경영난이 심해져 비자발적으로 퇴사를 하게 되었고, 관계 기관을 통해 실업 상태임을 확인하였다. A 씨는 재취업 의지와 관련 업무에 대한 능력이 있음에도 불구하고 퇴사 후 1개월이 지난 현 시점까지 취업처를 찾지 못하고 있어 가입했던 사회 보험의 혜택을 받고자 한다.

ㄱ. 재취업까지 근로복지공단에 유족 급여를 신청한다.
 ㄴ. 워크넷(http://www.work.go.kr)에 구직 등록을 한다.
 ㄷ. 재직 시 가입했던 국민건강보험 제도를 통해 재취업 지원을 신청한다.
 ㄹ. 고용 촉진, 근로자 직업 능력의 개발, 근로자 생활 안정, 그리고 구직 활동 지원 등을 위해 운영되는 보험의 급여를 신청한다.

- ① ㄱ, ㄴ ② ㄱ, ㄷ ③ ㄴ, ㄹ ④ ㄱ, ㄷ, ㄹ ⑤ ㄴ, ㄷ, ㄹ

13. 다음은 [기업 조사 보고서]의 일부이다. A, B기업의 특징에 대한 설명으로 적절한 것만을 <보기>에서 있는 대로 고른 것은? (단, 제조업의 분야는 생산재 제조업과 소비재 제조업으로만 구분한다.)

[기업 조사 보고서]		
		작성자 ○○○
구분	A 기업	B 기업
업종	전자 부품 제조업	신발 및 신발 부품 제조업
생산 품목	고효율 발광 장치의 부품인 LED	개인 맞춤형 수제화
생산 특성	생산 공정 전체가 자동화된 전용 생산 라인	숙련공에 의한 수작업

ㄱ. A기업은 개인에 의한 최종 소비를 주목적으로 하는 제품을 생산한다.
 ㄴ. B기업은 다품종 소량 생산에 적합하다.
 ㄷ. A기업은 B기업보다 노동 집약도가 높다.
 ㄹ. A기업은 B기업보다 제품 규격 및 생산 방식에 대한 표준화가 용이하다.

- ① ㄱ, ㄴ ② ㄱ, ㄷ ③ ㄴ, ㄹ
 ④ ㄱ, ㄷ, ㄹ ⑤ ㄴ, ㄷ, ㄹ

14. 다음은 신입 직원 [채용 계획서]의 일부이다. 채용될 직원의 담당 업무가 속하는 기업의 경영 활동으로 가장 적절한 것은?

[채용 계획서]		
채용 목적	미래를 함께 이끌어 갈 열정과 신념을 가진 신입 직원 총원	
필요 인원	00명	
담당 업무	• 기업 내·외부의 정보 이용자에게 유용한 정보를 제공하기 위해 손익 계산서, 현금 흐름표를 작성하고 관리하는 업무	

- ① 생산 관리 ② 재무 관리 ③ 마케팅 관리
 ④ 인적 자원 관리 ⑤ 회계 정보 관리

15. 다음 [○○산업 현장 견학 보고서]를 통해 알 수 있는 내용으로 옳은 것만을 <보기>에서 있는 대로 고른 것은?

[○○산업 현장 견학 보고서]		
		작성자 △△△
종업원 수	상시 근로자 80명	
사업영역	인간의 학습 능력, 추론 능력, 지각 능력, 이해 능력 등을 컴퓨터 프로그램으로 구현하는 기술을 활용한 스마트 로봇 생산	
근로조건	항목	내용
	근로장소	기술지원팀(본사 7층)
	휴일	매주 토요일, 일요일
	임금	시간당 10,000원
기타 사항	• 4대 보험 적용 • 기숙사 제공	

ㄱ. 사업영역에 제시된 내용은 인공지능(AI) 기술을 바탕으로 한다.
 ㄴ. 근로조건의 항목은 표준근로계약서에 포함되는 항목이다.
 ㄷ. 기타 사항에는 연금 수령 연령이 되면 납부한 보험료를 기준으로 매월 연금으로 지급받을 수 있는 사회 보장 제도가 포함된다.

- ① ㄱ ② ㄴ ③ ㄱ, ㄷ ④ ㄴ, ㄷ ⑤ ㄱ, ㄴ, ㄷ

4 (성공적인 직업생활) 직업탐구 영역

[16~17] 다음은 진로 의사 결정에 관한 교사와 학생들의 대화이다. 물음에 답하시오.

교 사: 여러분은 취업 또는 대학 진학 중에서 무엇을 선택했나요?
 학생 A: 평소 관심이 많았던 컴퓨터 보안 분야를 중심으로 희망 직업 후보군을 검색·비교하고 진로를 선택하여 정부에서 지원하는 ㉠ 보안 전문가 양성 교육 프로그램에 참여하였습니다. 향후 저는 산업체가 요구하는 교육과 채용을 조건으로 산업체와 협약을 맺고 운영하는 대학의 학과에 진학하려고 합니다.
 학생 B: ㉡ 게임 분야에 관심이 많아 프로 게이머를 희망했지만 부모님께서 평소 말씀하시던 정비사에 도전하려고 합니다. 부모님께서 학습 근로자로 취업하고 현장에서 도제식 현장 교육 훈련과 대학에서의 이론 교육을 함께 받을 수 있는 제도를 통해 취업과 진학을 한꺼번에 하라고 하셔서 그렇게 하려고 합니다.

16. 위 대화를 통해 알 수 있는 학생 A, B의 진로 의사 결정에 대한 설명으로 적절한 것만을 <보기>에서 고른 것은? (단, 의사 결정 유형은 하렌(Harren)의 진로 의사 결정 유형 이론에 근거한 합리적, 직관적, 의존적 유형으로만 구분한다.) [3점]

—<보 기>—

ㄱ. 학생 A의 의사 결정 유형은 주관과 소신이 부족하고 실패 하였을 때 남을 탓하기 쉽다.
 ㄴ. 학생 B의 의사 결정 유형은 의존적 유형에 해당한다.
 ㄷ. 학생 A의 ㉠, 학생 B의 ㉡는 진로 의사 결정 과정 중 ‘실행 단계’에 해당한다.
 ㄹ. 학생 A의 의사 결정 유형은 학생 B의 의사 결정 유형에 비해 주변 사람이 의사 결정에 미치는 영향이 적다.

① ㄱ, ㄴ ② ㄱ, ㄷ ③ ㄴ, ㄷ ④ ㄴ, ㄹ ⑤ ㄷ, ㄹ

17. 위 대화에서 학생 A, B가 선택하려는 평생 학습 제도로 가장 적절한 것은?

<u>학생 A</u>	<u>학생 B</u>
① 계약학과 독학 학위제	
② 계약학과 일학습 병행제	
③ 독학 학위제 계약학과	
④ 독학 학위제 일학습 병행제	
⑤ 일학습 병행제 독학 학위제	

18. 다음은 ○○주의 서비스 개선 사례이다. 서비스의 특징 중 개선 원인으로 가장 적절한 것은? [3점]

○○주는 상담원에 따라 서비스 품질이 달라 제기되었던 민원을 해결하기 위해 기존 상담사의 지식 및 숙련도에 의존하여 해결책을 제시하던 방식에서 빅데이터 시스템을 활용하여 해결책을 제시하는 방식으로 변경하였다. 이를 통해 상담사의 지식 및 숙련도에 큰 영향 없이 동일한 내용으로 안내할 수 있도록 고객 센터 서비스를 상당 부분 표준화함으로써 고객의 만족도가 높아졌다.

- ① 서비스의 생산 결과가 눈에 보이지 않는 특징
 ② 서비스의 생산과 소비가 동시에 이루어지는 특징
 ③ 서비스 제공자의 전문성, 환경 등에 따라 내용과 질이 달라지는 특징
 ④ 재고 형태로 보관할 수 없으며 서비스의 제공이 끝나면 즉시 사라지는 특징
 ⑤ 서비스 제공자가 서비스 소비자의 서비스 품질 평가 피드백을 수용하는 데 소요되는 시간이 긴 특징

19. 다음 [○○기업 신입 사원 연수]에서 알 수 있는 노사관계에 대한 내용으로 옳은 것만을 <보기>에서 있는 대로 고른 것은? [3점]

[○○기업 신입 사원 연수]

◎ 연수 내용: 우리 회사 노사관계 이해하기

- 사내 노동조합 형태: 기업별 노동조합
- 노동쟁의 이력
 - 2019년 6월 첫째 주 파업 돌입
 - 파업 사유: 노사협의회 설치 및 근로 환경 개선 요구
 - 1주일 후 노사 협상 타결 및 업무 복귀
- 노동쟁의 후속 조치
 - 노사협의회 설치 및 출·퇴근 버스 지원 등의 근로 환경 개선

—<보 기>—

ㄱ. 노동조합은 단체행동권을 행사한 적이 있다.
 ㄴ. 후속 조치로 설치된 협의회는 사용자 위원과 공익 위원으로 구성된다.
 ㄷ. 사내 노동조합 형태는 동일 산업에 속하는 다수 기업의 근로자들로 구성된 노동조합에 해당한다.

① ㄱ ② ㄴ ③ ㄱ, ㄷ ④ ㄴ, ㄷ ⑤ ㄱ, ㄴ, ㄷ

20. 표는 생애 발달 단계에 따른 정서적 변화와 직업적 성공의 요건을 나타낸 것이다. (가), (나)에 해당하는 발달 과업으로 가장 적절한 것만을 <보기>에서 고른 것은? (단, 생애 발달 단계별 발달 과업은 해비거스트(R. J. Havighurst)의 이론에 근거한다.) [3점]

생애 발달 단계	정서적 변화	직업적 성공의 요건
(가)	<ul style="list-style-type: none"> 질풍노도의 시기로 급격한 정서 변화를 보임. 자아 탐색을 통해 자아 정체감이 발달함. 	<ul style="list-style-type: none"> 자신의 직업적 성공의 의미에 대해 생각해 봄.
(나)	<ul style="list-style-type: none"> 자녀와 원만한 가족 관계를 형성하도록 노력함. 노부모에 대한 책임을 느끼고 의무를 수행함. 	<ul style="list-style-type: none"> 다양한 경력을 바탕으로 위기에 슬기롭게 대처하는 위기관리 능력을 개발함.

—<보 기>—

ㄱ. 성인들로부터 정서적 독립 및 직업 준비하기
 ㄴ. 배우자 선택 및 사회적 집단 활동 참여하기
 ㄷ. 신체적 노화 적응 및 은퇴 후 여가 시간 활용법 학습하기
 ㄹ. 신체적·생리적 변화 적응 및 직업 세계 만족감 성취하기

	<u>(가)</u>	<u>(나)</u>		<u>(가)</u>	<u>(나)</u>
①	ㄱ	ㄴ	②	ㄱ	ㄹ
③	ㄴ	ㄷ	④	ㄷ	ㄴ
⑤	ㄷ	ㄹ			

* 확인 사항

○ 답안지의 해당란에 필요한 내용을 정확히 기입(표기)했는지 확인하시오.